A close-up photograph of a diverse group of women, likely in South Asia, wearing colorful saris and headscarves. The women are looking in various directions, some towards the camera and others away. The background is slightly blurred, emphasizing the individuals in the foreground.

UNIDAD 2

Población en un mundo diverso y desigual

Material de apoyo didáctico
Realización Mtra. Ligia Kamss Paniagua

UNIDAD 2. POBLACIÓN EN UN MUNDO DIVERSO Y DESIGUAL

Objetivo específico El alumno: Comprenderá la dinámica de la estructura, movilidad y distribución de la población como producto de los procesos ambientales, económicos y políticos, así como sus repercusiones en espacios rurales y urbanos mediante el análisis e interpretación de fuentes estadísticas y documentales que le permita la reflexión y la sensibilización hacia los problemas poblacionales, así como el respeto y la tolerancia en un mundo diverso e intercultural.

Contenidos conceptuales	Contenidos procedimentales	Contenidos actitudinales
2.1 Tendencias y políticas poblacionales en el mundo globalizado a) Estructura y evolución b) Movilidad de la población	2.4 Explicación de la localización de regiones de concentración y dispersión de la población 2.5 Observación y análisis de gráficas, estadísticas y fuentes documentales sobre la dinámica poblacional 2.6 Interpretación de representaciones cartográficas para el análisis espacial de la población 2.7 Elaboración de textos monográficos sobre temas poblacionales con apoyo de diversas fuentes convencionales y digitales	2.8 Valoración reflexiva y crítica de los problemas derivados del crecimiento, distribución y movilidad poblacional 2.9 Promoción del respeto y la tolerancia para la convivencia en un mundo multicultural e intercultural 2.10 Solidaridad con la población afectada por diversos problemas migratorios y ambientales

POBLACIÓN

INDICADORES DEMOGRÁFICOS

- Natalidad
- Mortalidad
- Morbilidad
- Fecundidad
- Esperanza de vida, etc.

ESTRUCTURA DE LA POBLACIÓN

- Estructura
- Evolución
- Tendencias de crecimiento
- Áreas de concentración y vacíos de población

MOVILIDAD DE LA POBLACIÓN

- Migraciones nacionales
- Migraciones internacionales
- Desigualdad entre países desarrollados y en vías de desarrollo

TENDENCIAS Y POLÍTICAS POBLACIONALES

- Políticas demográficas de crecimiento
- Contrastes urbanos y rurales
- Urbanización

DIVERSIDAD Y PATRIMONIO CULTURAL

- Diversidad étnica y cultural
- Patrimonio cultural
- Resistencia social
- Religión
- Lengua
- Diversidad de género

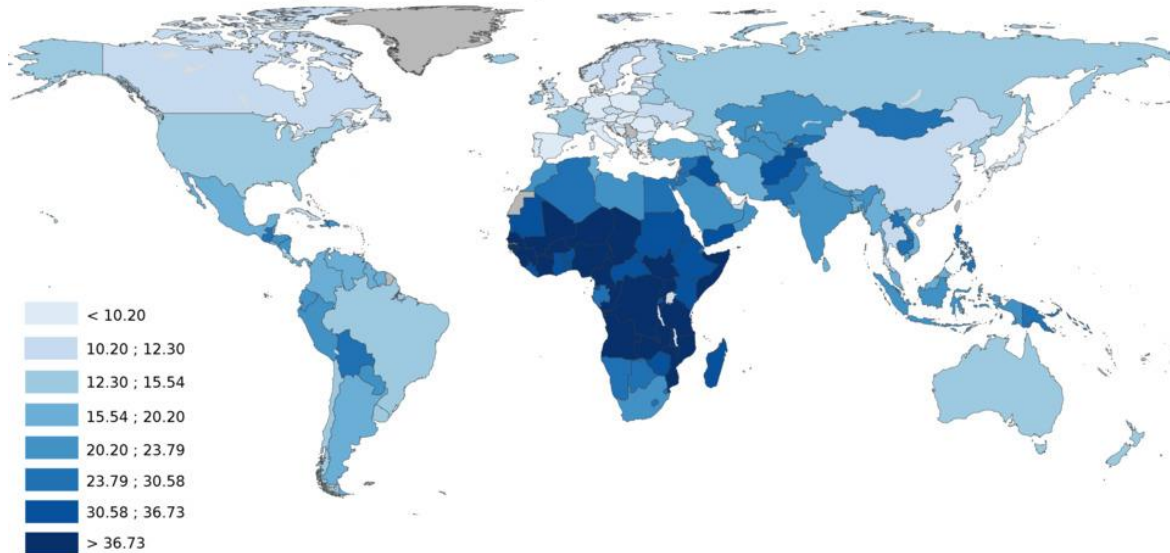


Es el número de nacimientos vivos ocurridos en un año por cada mil habitantes

NATALIDAD


- 1- INDIA registra 26 millones de nacimientos al año
- 2-CHINA registra 17 millones de nacimientos
- 3-NIGERIA registra 6.5 millones de nacimientos
- 4-PAQUISTAN registra 4.9 millones
- 5-INDONESIA registra 4.7 millones
- 6-ESTADOS UNIDOS tiene 4.2 millones de nacimientos
- 7-BANGLADESH con 3.8 millones
- 8-BRASIL con 3.6 millones
- 9-CONGO/ZAIRE con 3.1 millones
- 10- ETIOPIA con 2.9 millones

Tasa de natalidad (por 1 000 personas)



MORTALIDAD

Número total de defunciones ocurridas en un año, por cada mil habitantes.



Son causas de MORTALIDAD:

los factores socioeconómicos, ambientales, problemas políticos, conflictos bélicos, el entorno social, condiciones higiénicas y sanitarias.

La mortalidad disminuye con los adelantos en el control de las enfermedades infecciosas, respiratorias y gastrointestinales, sin embargo hay países que no tienen acceso a los servicios médicos elementales.


En 2014 se registraron 56 millones 239 mil 200 defunciones, de los 7 347 millones de habitantes del mundo.

Es el índice de nacimientos que se producen en una población en un año


FECUNDIDAD

Considera las etapas del
PROCESO REPRODUCTIVO


UNIÓN DE PAREJAS



GESTACIÓN



EMBARAZO Y PARTO



EL EMBARAZO DE ADOLESCENTES MEXICANAS, EN AUMENTO

México ocupa el primer lugar en embarazo y maternidad adolescente dentro de los países que pertenecen a la Organización para la Cooperación y Desarrollo Económico.

En 2016 se registraron **395 mil 597 alumbramientos** de mujeres cuyas edades se ubican entre los 9 y 19 años, según datos de la Secretaría de Salud

La cifra de embarazos adolescentes presenta un repunte de 31 mil a casos registrados en comparación con 2014, es decir un **10 por ciento más.**

El 17 por ciento de las mujeres de entre 9 y 19 años que tuvieron una hija o hijo en 2016 dijeron **pertenecer a algún pueblo indígena.**

Chihuahua, Coahuila, Durango, Guerrero y Chiapas, los estados en los que se detectó mayor incidencia de embarazo en adolescentes, **con más de un 20 por ciento de incremento.**

Del total de nacimientos en adolescentes, 11 mil 219 se presentaron en mujeres entre los 9 y 19 años, de ellos 4 casos fueron en niñas de 9 años, 25 casos en niñas de 10 años y 55 en niñas de 10 años.



En el mundo



7.300.000 adolescentes se convierten en madres cada año, principalmente en países en desarrollo.

680.000 nacimientos anuales de adolescentes se registran en países industrializados, más de la mitad en Estados Unidos.

De estos, 2 millones tienen menos de 15 años.

20.000 jóvenes menores de 18 años traen un hijo al mundo en los países en desarrollo cada año.

70.000 adolescentes mueren por complicaciones en el embarazo y en el parto.

3,2 millones tienen abortos peligrosos por año.

Factores determinantes a nivel global

El principal indicador es el bajo nivel educativo, así como los matrimonios de niñas.



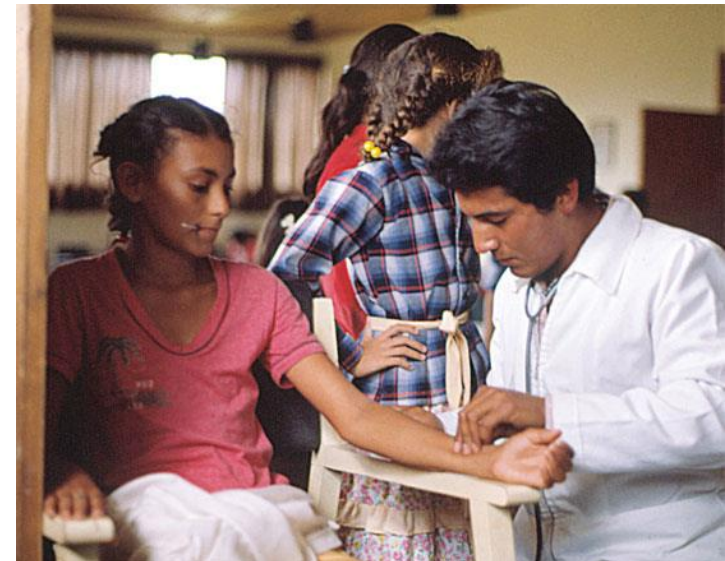
MORBILIDAD

Número de personas considerados enfermos o con algún padecimiento en un lugar y por un tiempo determinado.

CUADRO I. Número absoluto, porcentaje y tasas brutas de mortalidad (por 100.000 habitantes) para las 10 principales causas de muerte, por causas definidas, total y por sexo, Brasil, 2010

Causas	Total			Hombres			Mujeres		
	No.	%	Tasa	No.	%	Tasa	No.	%	Tasa
Enfermedades isquémicas del corazón	99.955	8,8	52,4	58.230	9,0	62,3	41.719	8,6	42,9
Enfermedades cerebrovasculares	99.732	8,8	52,3	50.536	7,8	54,1	49.190	10,1	50,5
Neoplasias malignas de los órganos digestivos	59.295	5,2	31,1	32.043	4,9	34,3	24.250	5,0	24,9
Otras enfermedades cardíacas	58.085	5,1	30,4	29.778	4,6	31,9	28.300	5,8	29,1
Influenza (gripe) y neumonía	55.338	4,9	29,0	27.573	4,2	29,5	27.760	5,7	28,5
Diabetes sacarina	54.877	4,8	28,8	24.002	3,7	25,7	30.872	6,3	31,7
Lesiones	52.260	4,6	27,4	47.749	7,4	51,1	4.465	0,9	4,6
Enfermedades hipertensivas	45.056	4,0	23,6	21.190	3,3	22,7	23.862	4,9	24,5
Accidentes de transporte	43.908	3,9	23,0	35.836	5,5	38,4	8.058	1,7	8,3
Enf. crónicas de las vías aéreas inferiores	40.608	3,6	21,3	23.432	3,6	25,1	17.174	3,5	17,6
Todas las causas	1.136.947	100,0	596,0	649.378	100,0	695,2	487.137	100,0	500,4
Causas mal definidas	62.809	5,5	32,9	37.255	5,7	39,9	25.500	5,2	26,2

Fuente: Referencia (12).



Es un dato estadístico importante para conocer el origen, la evolución y posibles soluciones de las enfermedades que se presentan en una región.

8 DE SEPTIEMBRE

DÍA INTERNACIONAL DE LA ALFABETIZACIÓN

Hace 51 años, la UNESCO proclamó el Día Internacional de la Alfabetización, a fin de movilizar a la comunidad internacional y fomentar la alfabetización como instrumento para empoderar a personas, comunidades y sociedades.

Sin embargo, todavía queda mucho por hacer, ya que:

4.7 MILLONES
DE LA POBLACIÓN MEXICANA, NO SABE LEER, NI ESCRIBIR



DE LOS CUALES EL:
23%
SON **INDÍGENAS**

LA CIFRA REFERIDA REPRESENTA QUE DE LOS ANALFABETAS EN MÉXICO:

40%
SON **HOMBRES**



60%
SON **MUJERES**

EN **MÉXICO**
LOS ESTADOS CON MAYOR POBLACIÓN CON ESTE FLAGELO:
CHIAPAS OAXACA
GUERRERO VERACRUZ
MICHOACÁN



MIENTRAS QUE EN EL **MUNDO**
EXISTEN CERCA DE:
800 MILLONES
DE ANALFABETAS

En la actualidad la alfabetización se entiende como una continuidad de competencias que permite a las personas lograr objetivos para el trabajo y la vida cotidiana a fin de estar capacitados para participar plenamente en el entorno social.

INDICADORES DEMOGRÁFICOS



ALFABETIZACIÓN

Porcentaje de la población de 15 años o más que sabe leer y escribir.



Infografía Día mundial de la Alfabetización, datos de la UNESCO, 2017.

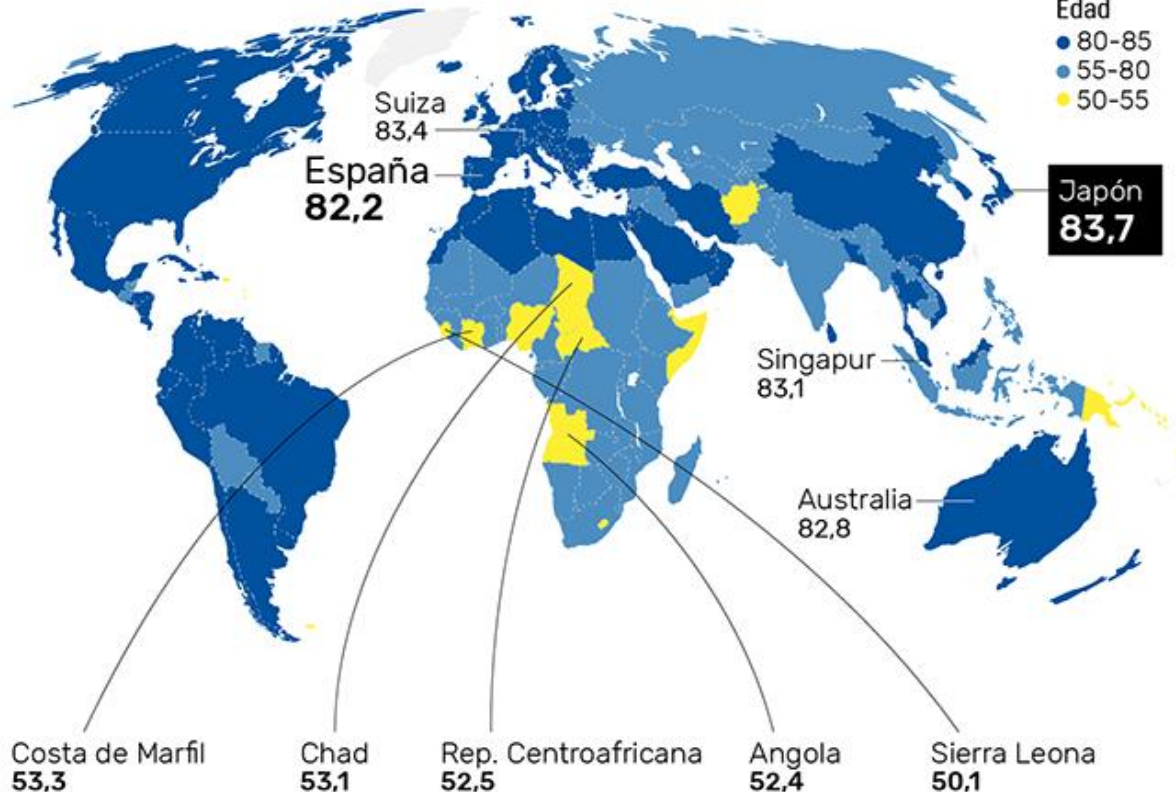


INDICADORES DEMOGRÁFICOS

ESPERANZA DE VIDA

Es el número de años que en promedio vive una persona en un lugar y momento determinados.

PAÍSES CON LA ESPERANZA DE VIDA MÁS ALTA



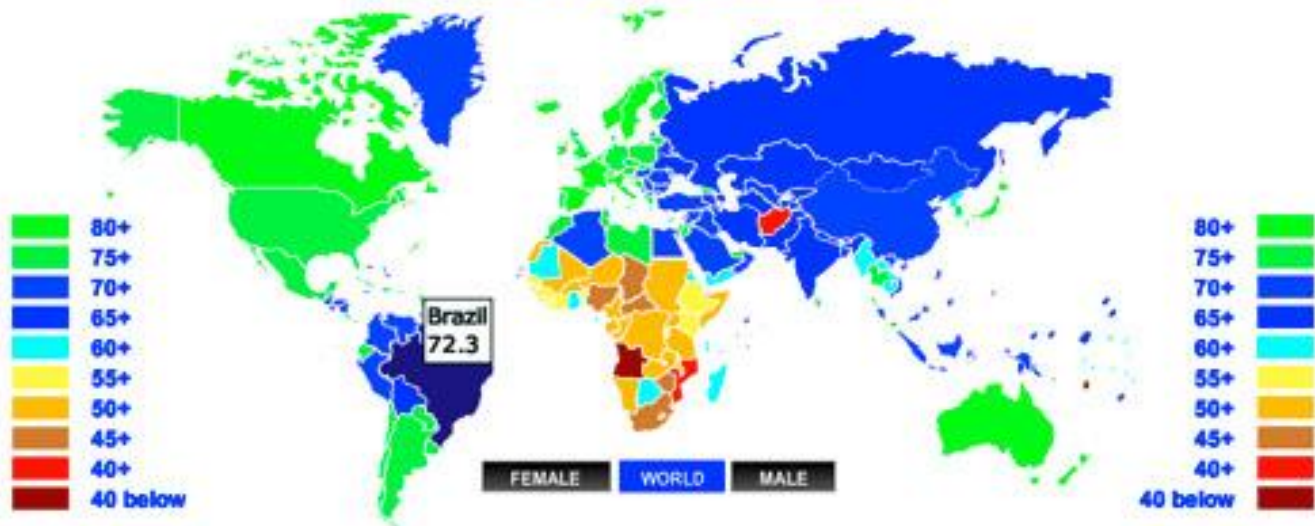
PAÍSES CON LA ESPERANZA DE VIDA MÁS BAJA

CUADRO 19
Esperanza de vida al nacer 2010 – 2015,
países seleccionados de America Latina, según sexo

PAÍS	HOMBRE	MUJER
Chile	78	84
Uruguay	73,3	80
Ecuador	73	78
Argentina	72	80
Perú	71,5	77
Paraguay	71	75
Sud América	71	78
Brasil	70	78
Colombia	70	77
Venezuela	70	78
Bolivia	65	70

FUENTE: World Population Ageing, United Nations, 2015

WORLD LIFE EXPECTANCY MAP

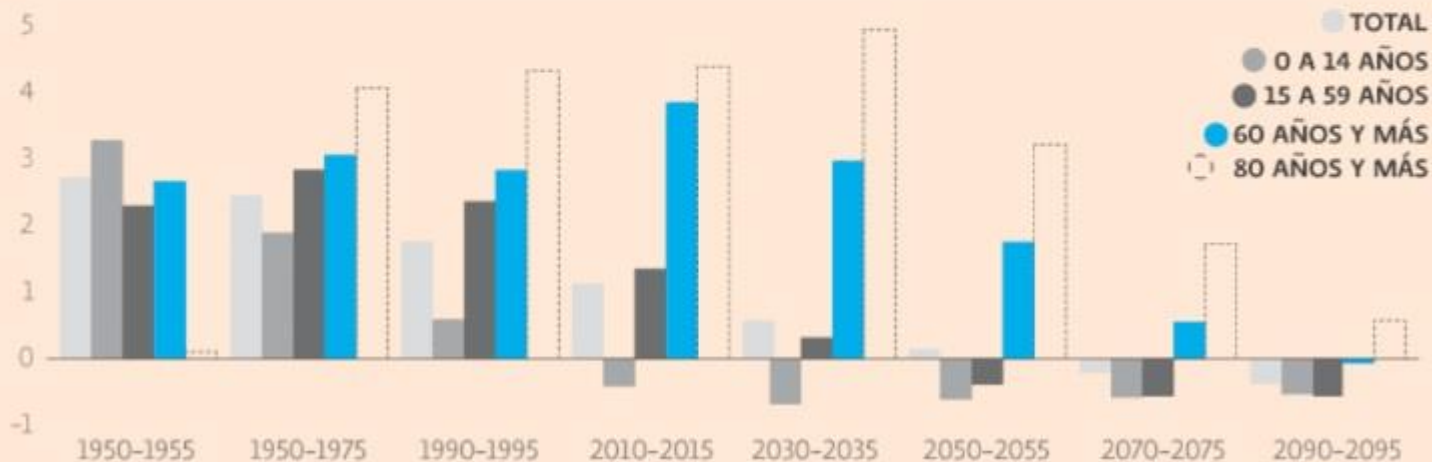


Se prevé que la población de personas de 60 años o más en América Latina y el Caribe aumentará en promedio 3.4% anual en el periodo 2015-2040, mucho más rápido que la población de 20 a 59 años, que crecería un 0.5% al año, y que la población de menores de 20 años disminuya 0.5% al año.

MÁS ESPERANZA DE VIDA

En los últimos 65 años, el promedio de vida de los habitantes de la región aumentó 24.4 años. La población de América Latina y el Caribe pasó de una esperanza de vida al nacer de 51,3 años en el periodo 1950-1955 a 75,7 años para ambos sexos en el quinquenio 2015-2020.

TCMA DE LA POBLACIÓN EN AL Y EL CARIBE 1950-2090 | EN %



FUENTE: CEPAL

Esperanza de vida en Latinoamérica y el Caribe

Fuente :CEPAL 2015

Un movimiento migratorio es un desplazamiento de individuos provocado por un cambio en su lugar de residencia

MIGRACIÓN

LOS MOVIMIENTOS MIGRATORIOS pueden ser

EMIGRACION

movimiento de salida que hace el migrante de su territorio



INMIGRACIÓN

movimiento de llegada o entrada de migrantes a un territorio



TRÁNSITO

movimiento de corta duración a un lugar distinto a su territorio



TIPOS DE MIGRACIONES

**INTERNACIONALES
O EXTERNAS**

Los migrantes enfrentan grandes peligros al cruzar la frontera hacia otro país : engaño, extorción, maltrato, violación, robo e incluso la muerte

sur- norte

norte- norte

norte- sur

sur- sur

CAUSAS:

Naturales (catastróficas) Políticas
Económicas Sociales

INTERNAS

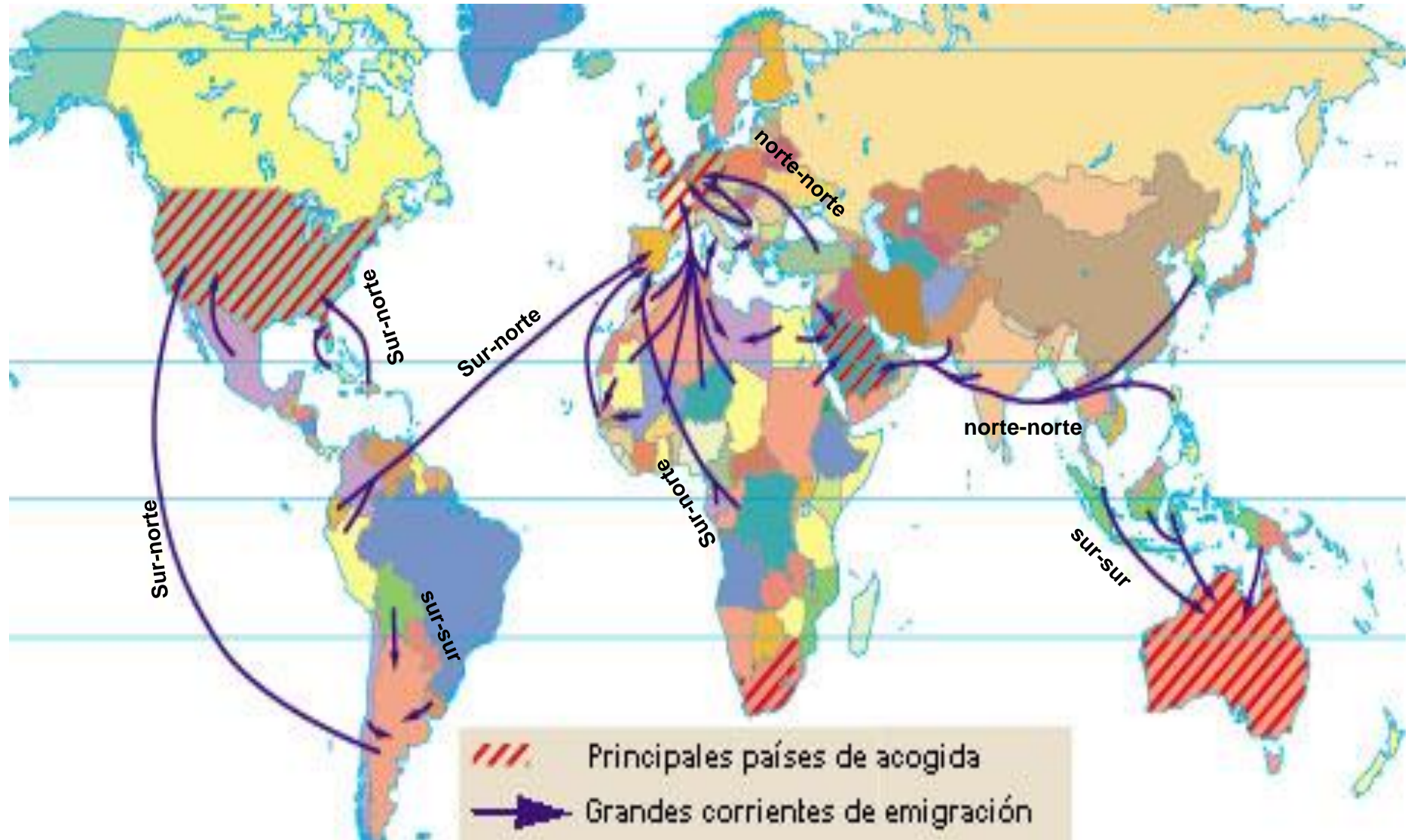
Los migrantes rurales se asientan en la periferia empobrecida de las ciudades, creando áreas suburbanas sin servicios llamados "cinturones de miseria"

campo -ciudad

CAUSAS:

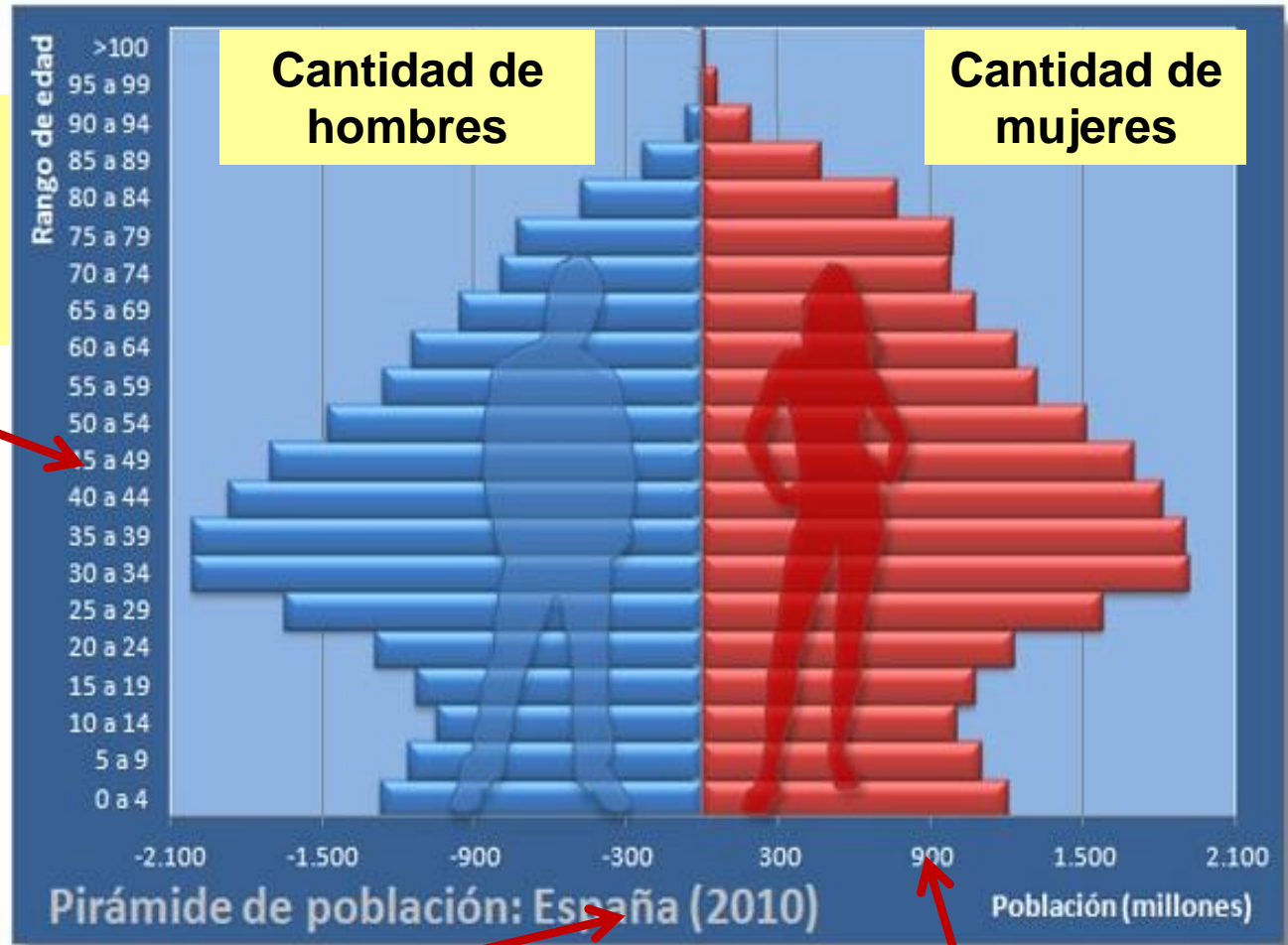
Agotamiento del suelo agrícola, clima, zonas de riesgo sísmico o volcánico, incendios, guerras, epidemias, hambruna, desempleo, pobreza, entre otras.

MIGRACIONES INTERNACIONALES



ELEMENTOS DE LA PIRÁMIDE DE POBLACIÓN

EJE VERTICAL con los grupos de edad, representados en forma de barras



Cantidad de hombres

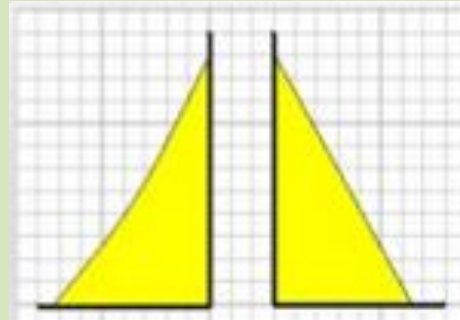
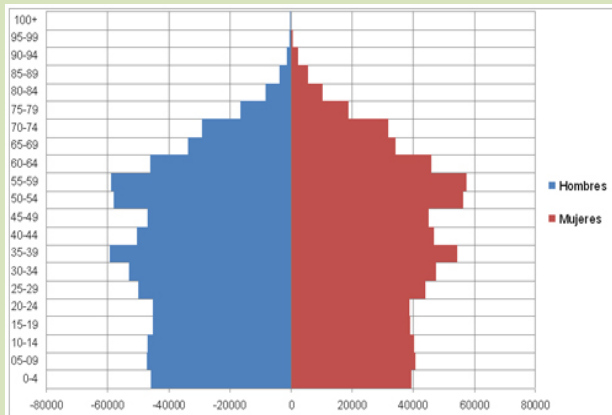
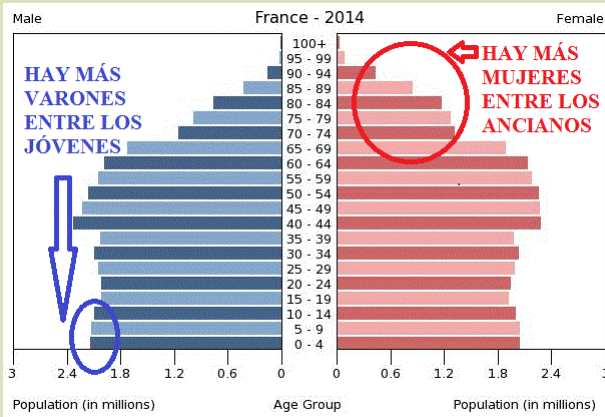
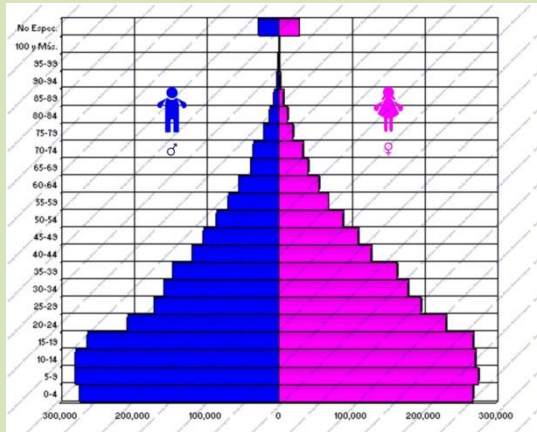
Cantidad de mujeres

Datos del PAÍS y AÑO

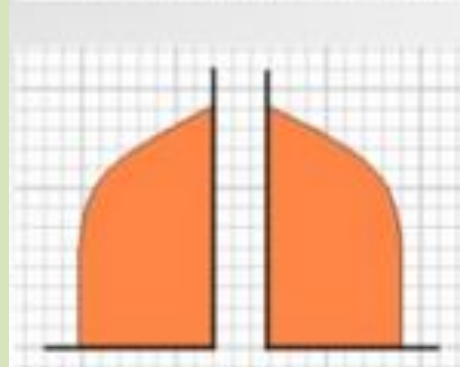
EJE HORIZONTAL cifras absolutas de población o en porcentaje

ESTRUCTURA DE LA POBLACIÓN

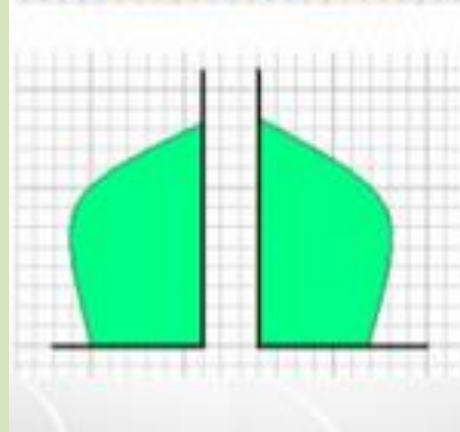
TIPOS DE PIRÁMIDE DE POBLACIÓN



A) **PROGRESIVA** o con forma de pagoda. Presenta base ancha con disminución rápida hacia la cumbre. Representa a una población joven con natalidad alta, lo que hace presagiar un rápido crecimiento de la población. Es el modelo típico de los países subdesarrollados.



B) **ESTANCADA** o con forma de bulbo. Base y zona central con el mismo tamaño. Reducción o estancamiento de la natalidad, propia de los países en vías de desarrollo.



C) **REGRESIVA** o con forma de campana. Presenta la base más estrecha que los escalones centrales. Nos indica un descenso de la natalidad en los últimos años y un previsible envejecimiento e incluso pérdida de población. Es típica de los países desarrollados.

ESTRUCTURA DE LA POBLACIÓN

**ACTIVIDAD 1.
POR EQUIPOS:
Elegir 3
pirámides de
población de
un país
y realizar el
análisis de su
información**

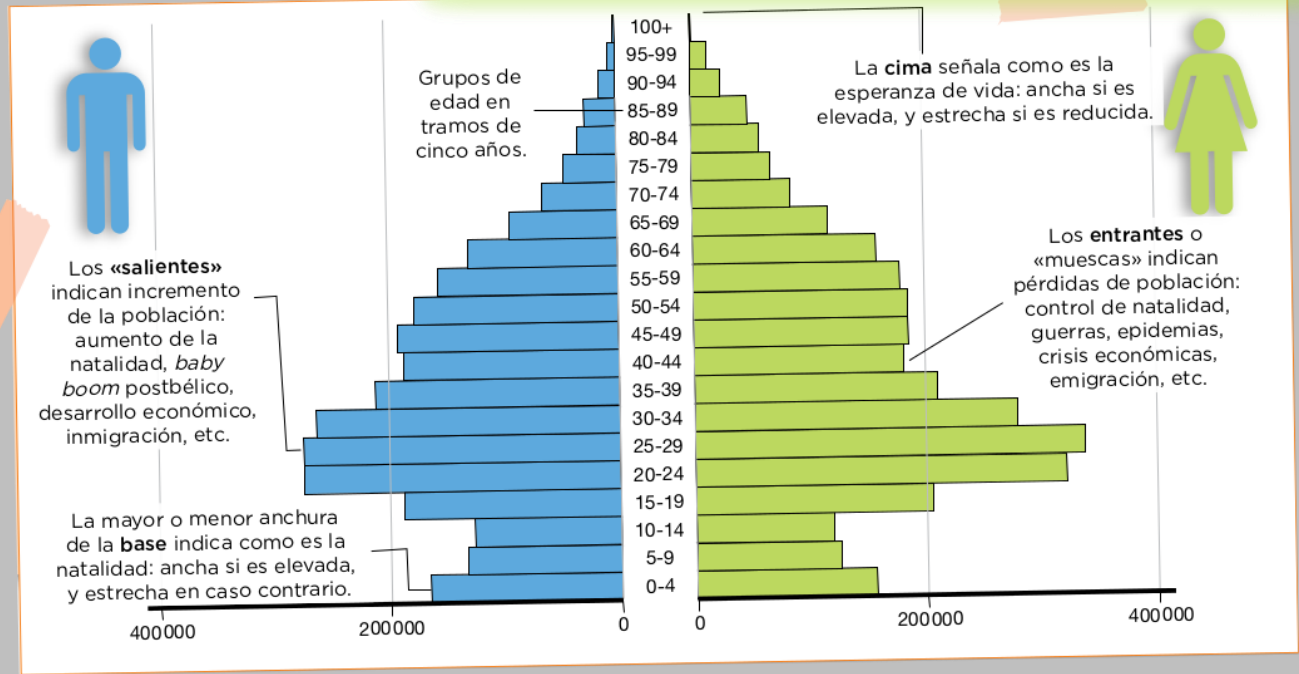
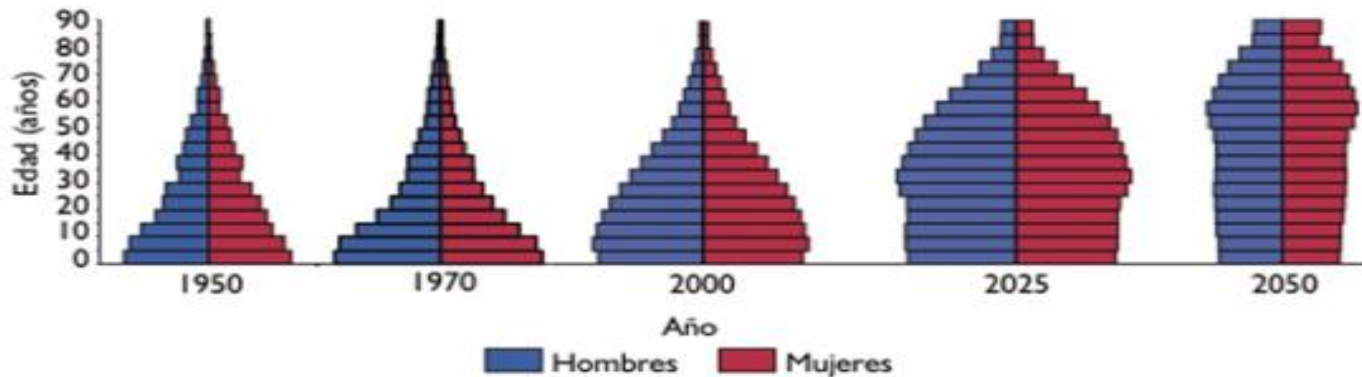


Figura 1.5 Pirámides de edad en México, 1950-2050



Fuentes:
INEGI. Estadísticas Históricas de México. México. S/A.
INEGI. XII Censo General de Población y Vivienda 2000. México. 2001.
Conapo. Proyecciones de la Población de México, 2000-2050. México. 2002.

ES EL RECUENTO PERIÓDICO DE LA POBLACIÓN EXISTENTE EN UN PAÍS.

Esta información permite conocer la población absoluta de un territorio y sus características en un lapso de tiempo determinado.

CENSOS

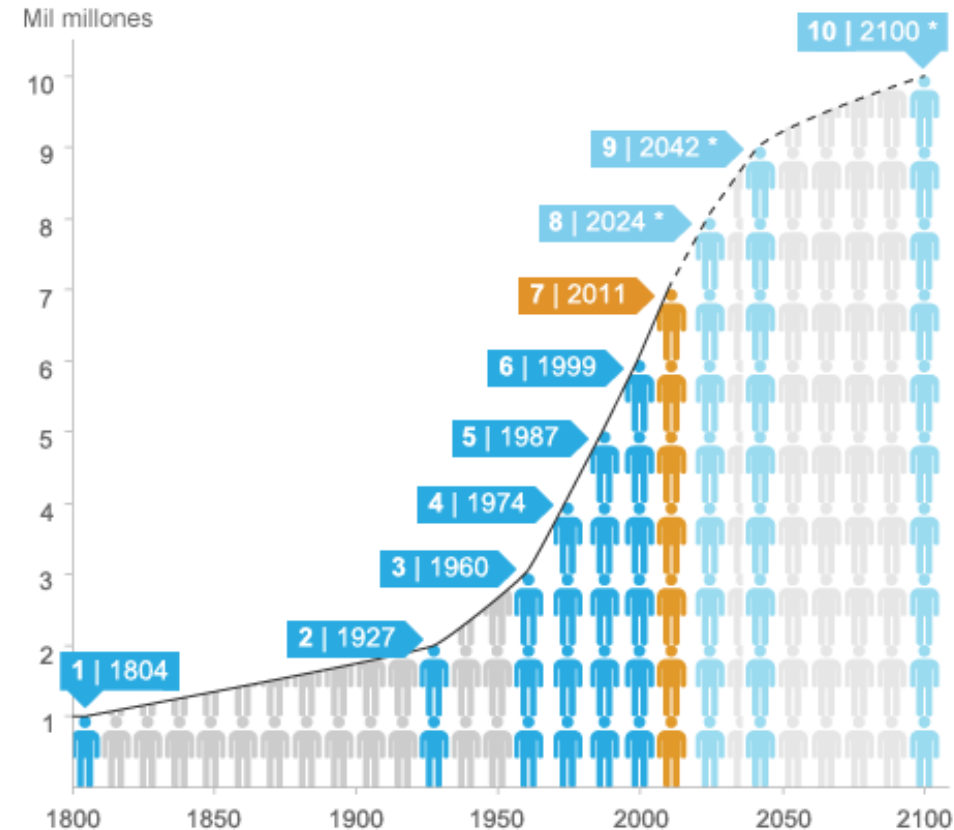
Censo de Población y vivienda INEGI 2010



TIPO DE CENSOS
Demográfico (cada 10 años),
económico, agrícola, industrial,
ganadero (cada 5 años).

CRECIMIENTO DEMOGRÁFICO

Crecimiento de la población mundial: alcanzando 7 mil millones



* Cifras poblacionales futuras basadas en las predicciones de la ONU con una variante media

FUENTE: Fondo de Población de la ONU

ACTIVIDAD 2. RESPONDE EN TU CUADERNO LAS SIGUIENTES PREGUNTAS:

Mapa mundial y densidad poblacional.
<http://poblacion.population.city/world/>

1. Población mundial en el año que naciste
2. Imprime un mapa del crecimiento demográfico mundial e indica la población mundial en 2018
3. Población de hombres y mujeres en el mundo (fecha actual)
4. Imprime y compara los mapas de México, India y China ¿qué aspectos demográficos puedes observar?
5. Realiza una gráfica con la población actual de los continentes

**Indica el porcentaje de crecimiento del número de individuos.
Es la variación del total de habitantes de un lugar en un período determinado.**

TENDENCIAS Y POLÍTICAS POBLACIONALES

Poblacion actual ' Sept. 11, 2018
20:26 horas

7 615 197 223

Este Dia

Este año

Crecimiento de la población Este
Dia

Crecimiento de la población Este
año

193 362

57 690 360

Los cambios cada 0.38 sec.

Nacimientos Este Dia

Nacimientos Este año

330 612

98 639 386

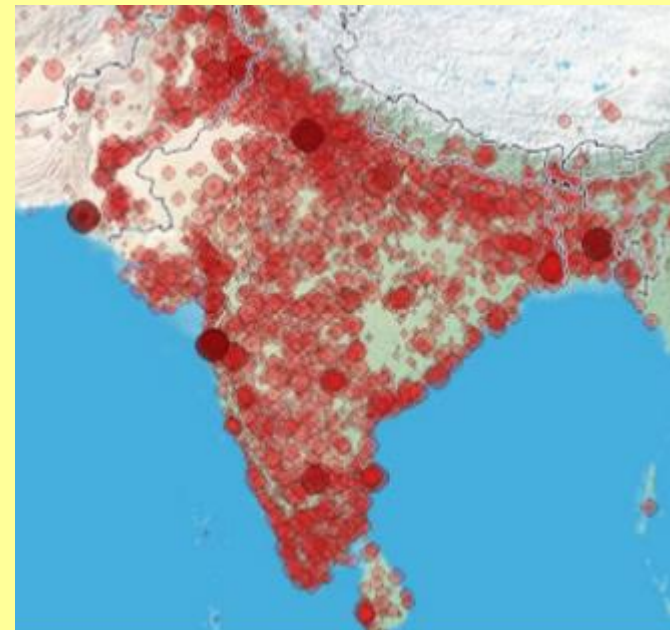
Los cambios cada 0.222 sec.

Muertes Este Dia

Muertes Este año

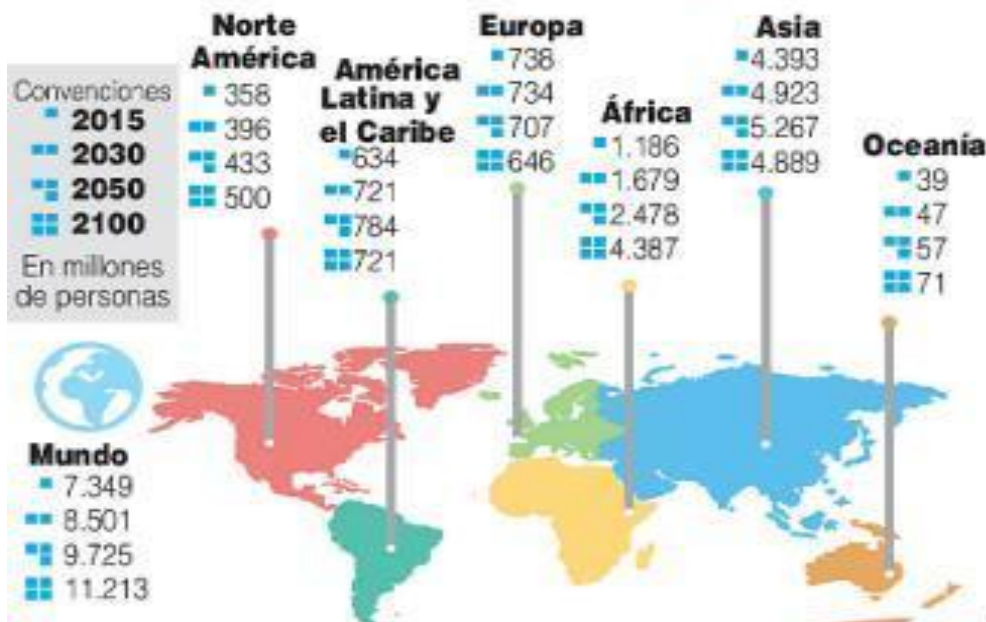
137 250

40 949 026



La población mundial será de 11.200 millones para fin de siglo: ONU

El mundo, que actualmente cuenta con unos 7.300 millones de habitantes, alcanzará los 8.500 millones en 2030 y los 9.700 millones en 2050, según un informe de la Organización de Naciones Unidas.



Los países más fértiles Entre 2010 y 2015

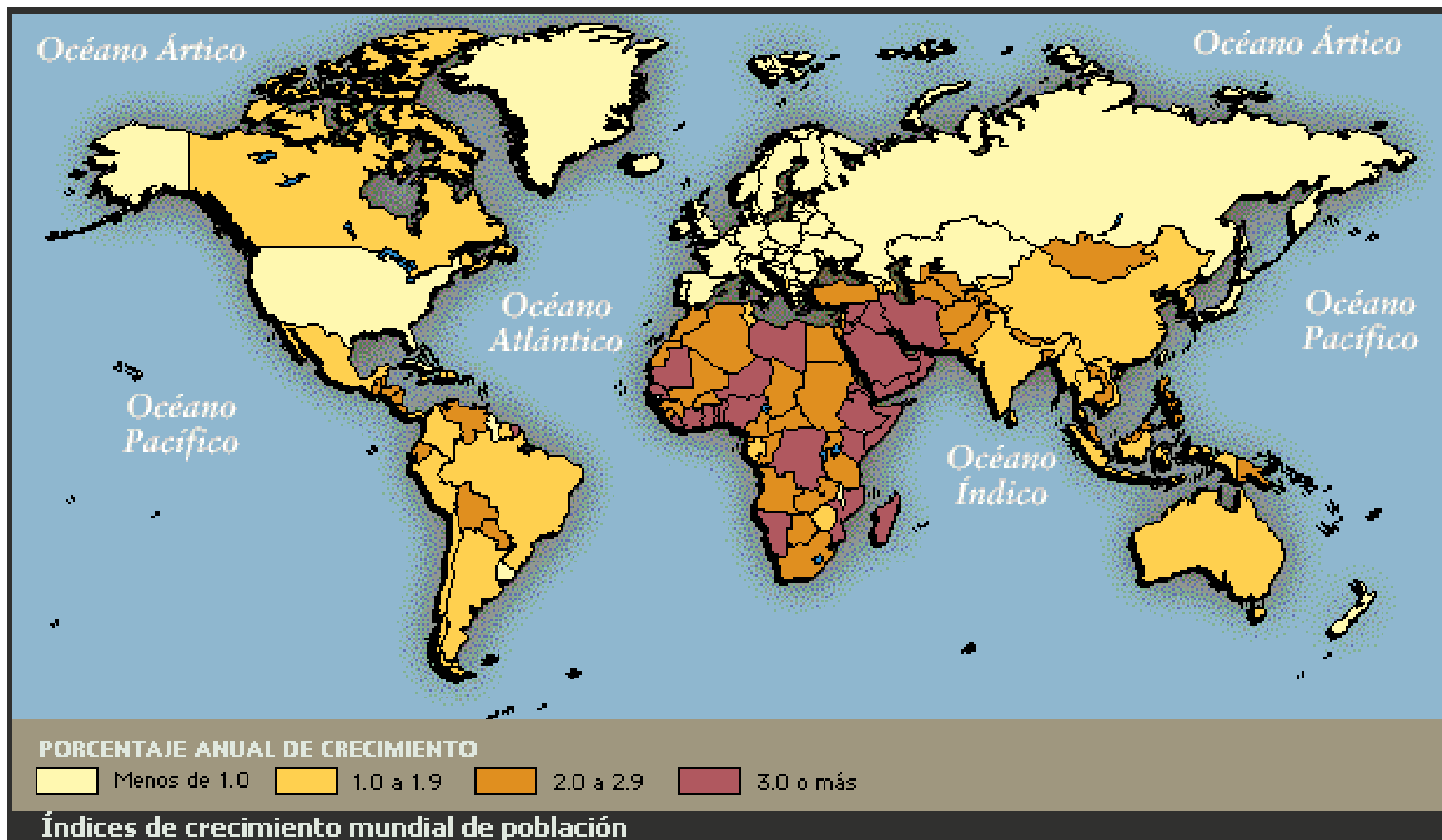
Promedio de niños por mujer

1	Niger	7,63
2	Somalia	6,61
3	Mali	6,35
4	Chad	6,31
5	Angola	6,20
6	Rep. Democrática del Congo	6,15
7	Burundi	6,08
8	Uganda	5,91
9	Timor	5,91
10	Gambia	5,78



Los países menos fértiles Entre 2010 y 2015

1	China, Macao	1,19
2	China, Hong Kong	1,20
3	Singapur	1,23
4	República de Corea	1,26
		1,27
		1,28
		1,28
		1,32
9	Hungría	1,34



Los índices de crecimiento poblacional hacen referencia al incremento de los porcentajes anuales de población de cada país: son más elevados en Latinoamérica, África y el Próximo Oriente; en cambio, se mantienen casi estables en Europa, Estados Unidos y en las repúblicas de la antigua Unión Soviética.


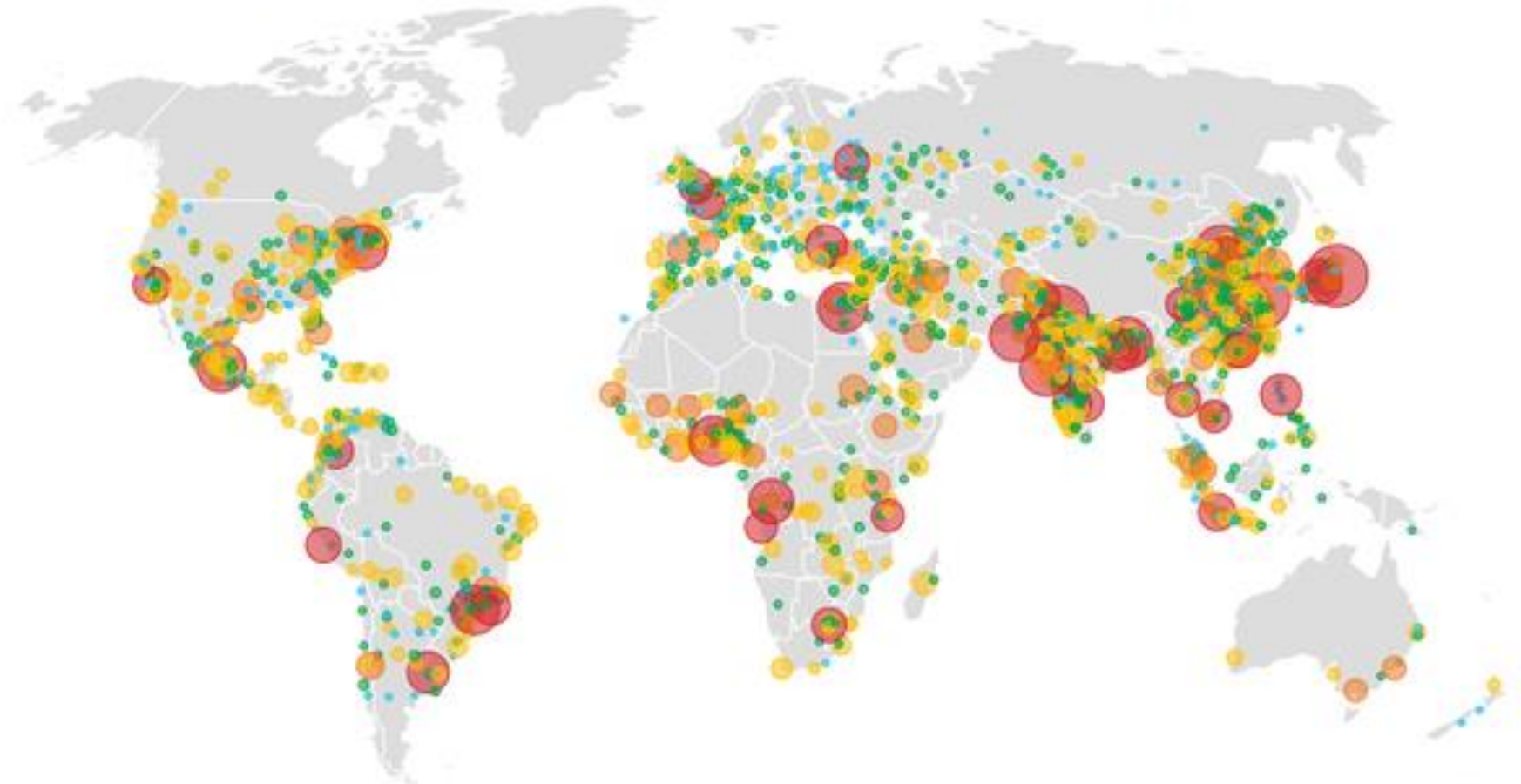
La población del mundo probablemente alcanzará los 9.5 mil millones de personas en 2050, con una triplicación de los mayores de 60 años, y prácticamente todo el crecimiento se producirá en el mundo en desarrollo, (datos demográficos de la ONU).



Según el cálculo del 2006 la población mundial que era de 6.700 millones, probablemente aumentará en 2.500 millones de personas en los próximos 43 años, una cifra equivalente al total de la población mundial en 1950.

URBANIZACIÓN: ZONAS RURALES, CIUDADES Y MEGACIUDADES

GLOBAL CITY POPULATIONS*



Source: UN

*Dataset comprises urban agglomerations with 300,000 inhabitants or more in 2014. Data are for countries existing in 2014, mapped on modern borders. Projections from 2014.

ESTAS SERÁN LAS 40 CIUDADES **MÁS GRANDES** DEL MUNDO EN 2030

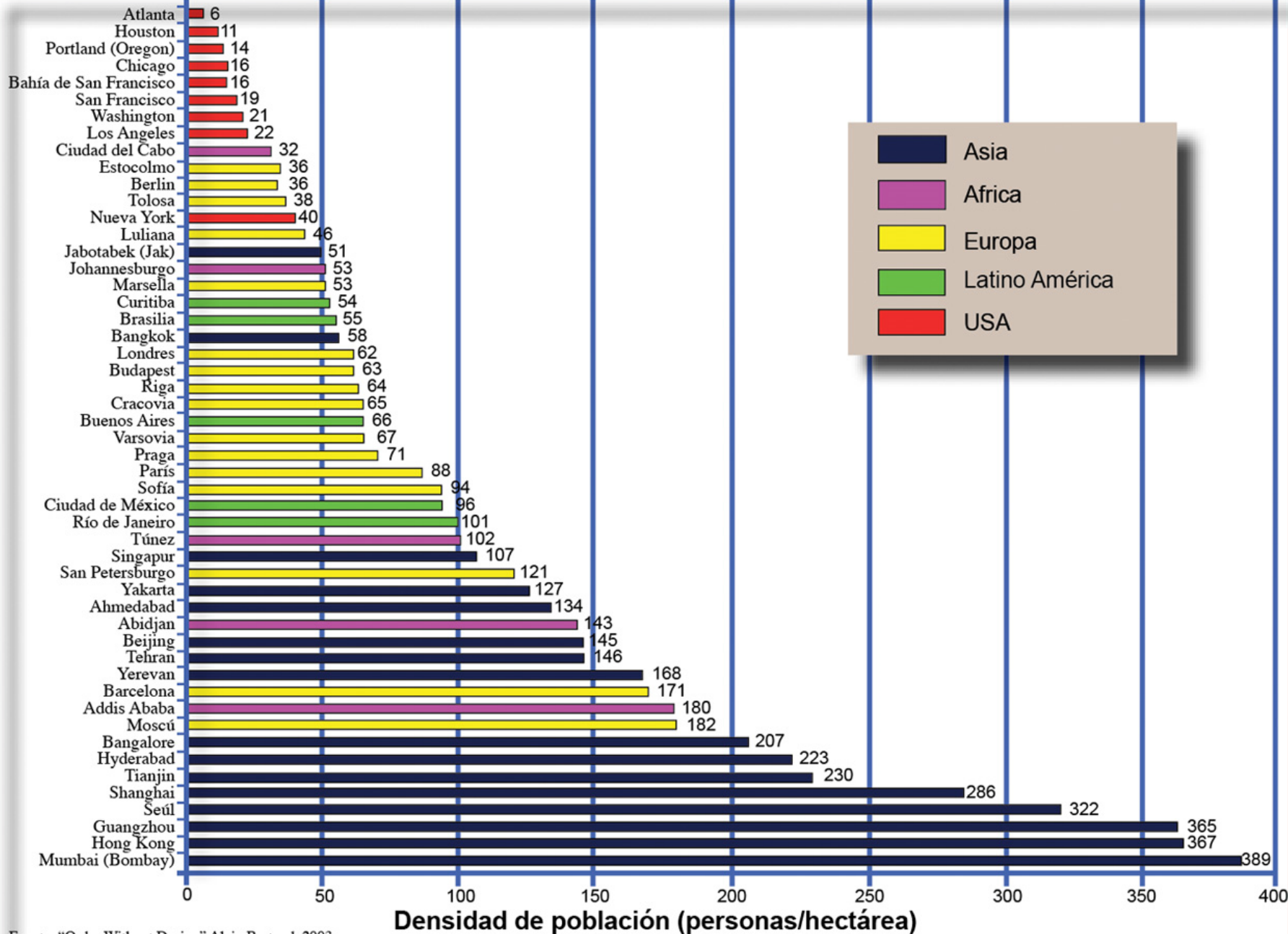
europapress.es



ACTIVIDAD 3.

- 1. Realizar un listado de las 20 ciudades del mundo más pobladas con el número de habitantes actual.**
- 2. Elegir una ciudad sobrepoblada y realizar una presentación (5-8 diapositivas) que incluya:**
 - Estructura de la población**
 - Dinámica actual y futura de crecimiento,**
 - Problemática social, política y económica****utilizar mapas, imágenes y las referencias consultadas.**

Comparativo de densidad de población en 46 comunidades urbanas



Fuente: "Order Without Design" Alain Bertaud, 2003.

POLITICAS DEMOGRÁFICAS NATALISTAS

- Política que caracteriza a la mayoría de los países pobres y en desarrollo
- Busca aumentar el tamaño de la población de un territorio.
- Se apoya económicamente a las parejas para tener hijos
- Se brindan apoyos y subsidios a las mujeres embarazadas.
- Se implementa, donde predomina población de más de 60 años y la población está en riesgo de desaparecer.
- Es derecho de los padres, determinar cuándo y cuántos hijos desean procrear así como el uso de métodos anticonceptivos
- Se emplean en países desarrollados con territorios escasamente poblados





POLITICAS RESTRICTIVAS

- Se fomenta el empleo de técnicas anticonceptivas.
- Busca disminuir los problemas sociales, económicos y medioambientales de una sobrepoblación de un país.
- Se implementa cuando predomina la población joven, donde el gasto social es alto y los recursos escasos
- Se realiza la esterilización o el aborto obligatorio
- Se promueve la planificación familiar.
- Se promueve educación sexual en las escuelas para prevenir embarazos no deseados en adolescentes
- Se justifica porque hay elevados índices de fecundidad



Política del hijo único en China

<https://elcomercio.pe/mundo/actualidad/politica-china-hijo-unico-historia-consecuencias-202383>

CONCLUSIONES

1. La **población** es el conjunto de habitantes que ocupan un determinado espacio geográfico.
2. Se distribuye desigualmente, hay zonas sobrepobladas y otras con escasa población, debido a:
 - a. **Factores físicos**: clima, relieve, vegetación, hidrografía, tipo de suelos
 - b. **Factores humanos**: historia, desarrollo económico, social y cultural, tipo de gobierno, etc.
3. Según la Organización de Naciones Unidas la población actual de 7300 millones de habitantes, aumentará a 8300 millones en 2030 y a 9700 millones en 2050.
4. Las **zonas sobrepobladas** son: Asia meridional y oriental, África, América Latina y el Caribe, Europa central y noreste de Norteamérica.
5. Un **censo demográfico** proporciona información clasificada sobre las características de la población de un espacio geográfico.
6. La **estructura demográfica** se determina analizando las pirámides de población; en ellas es posible ver la evolución, la problemática que afecta en determinados períodos y las repercusiones futuras por las políticas o acciones implementadas.

REFERENCIAS



- Introduction to Geography: People, Places, and Environment. USA: Pearson.
- Fernández, A., Muguruza, C., Pardó, C., Martín, E. (2010).
- Puyol A., Rafael et al. (1993) Los grandes problemas actuales de la población. Madrid: Síntesis.
- Mapas de “Los jóvenes en el mundo: Variación de las proporciones 1980, 2015 y 2050” en Estado de la población 2014 Fondo de Naciones Unidas
- La pobreza en México <https://www.youtube.com/watch?v=HwC8wdqOhMk>
- ¿Por qué somos pobres? <https://www.youtube.com/watch?v=91QF-MTyiiA>
- Pirámides de población del mundo desde 1950 a 2100.
<http://populationpyramid.net/es/italia/>
- <http://www.conapo.gob.mx/work/models/CONAPO/Resource/205/1/Images/Cap01.pdf>
- <https://www.gob.mx/conapo>
- <http://www.beta.inegi.org.mx/app/areasgeograficas/>
- <https://elcomercio.pe/mundo/actualidad/politica-china-hijo-unico-historia-consecuencias-202383>
- <http://poblacion.population.city/world/>

